

ADI-SOYADI:
NO-SINIF:

ALDIĞI NOT:

BONUS PUAN:

... ORTAOKULU
2019-2020EĞİTİM-ÖĞRETİM YILI
SOSYAL BİLGİLER 7.SINIFLAR 2.DÖNEM1.YAZILI

Yönerge: Bu sınav, test/ doğru-yanlış/ eşleştirme / yorumlama / boşluk doldurma tarzı 6 soru grubundan oluşmuştur. Cevabınızı her soruda belirtilen ilgili yere veriniz. Her sorunun puanı yanında yer almaktadır. Bilgi alışverişi kesinlikle yasaktır. Yanlış doğruya bir şey yapmaz. Başarılar dilerim.

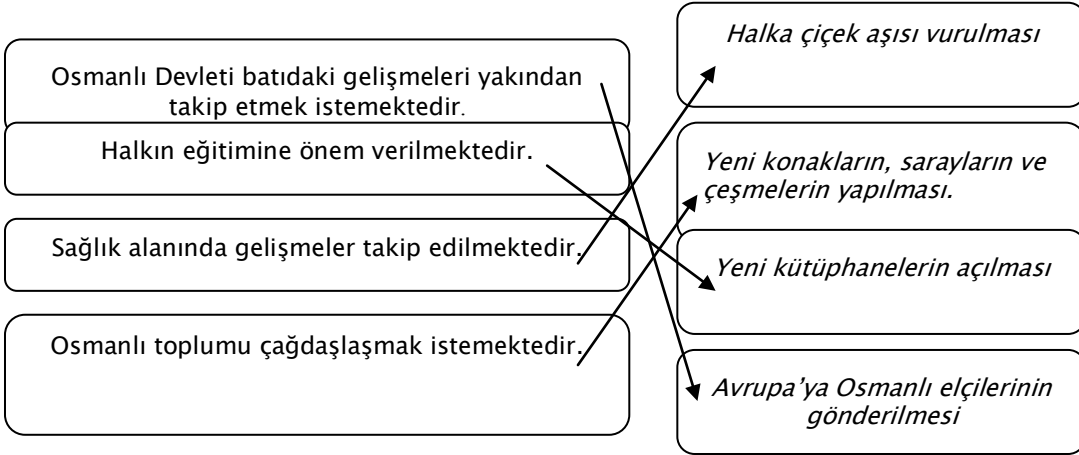
1. AŞAĞIDAKİ İFADELERDEN DOĞRU OLANLARIN BAŞINA "D" YANLIŞ OLANLARIN BAŞINA "Y" HARFİ YAZINIZ. 30 p

- (D) Hiyeroglif, kısaca resimli yazı olarak tanımlanabilir.
- (D) Yazı ile bilginin kuşaktan kuşağa aktarılması sağlanmıştır.
- (D) Tarih çağları yazının icadı ile başlar.
- (Y) Kâğıt, Lidya uygarlığı tarafından bulunmuştur.
- (Y) Tarihte ilk baskı tekniğini Avrupalılar kullanmıştır.
- (İ D) Sümerlilerin kullandığı yazıya çivi yazısı denmesinin nedeni yazının kil tabletler üzerine çiviye benzer sivri bir araçla yazılmasıdır.
- (D) Günümüzde bilgiyi depolamak için flaş bellek ve harddiskler kullanılmaktadır.
- (Y) Bilgiyi depolamak ve yaymak için kil tablet en kullanışlı araçtır.
- (Y) Kil tabletler ilk defa Mısırlılar tarafından kullanılmıştır.
- (D) Modern matbaa Alman Jan Gutenberg tarafından icat edildi.

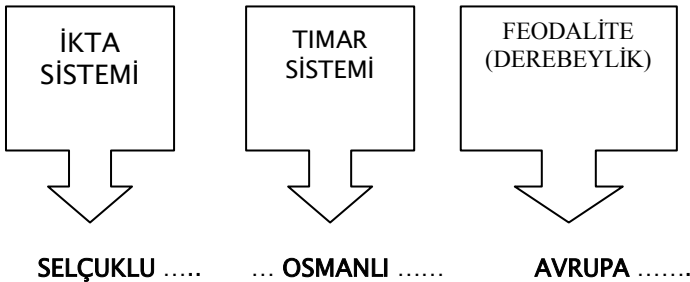
2. Aşağıdaki boşlukları uygun kelimelerle doldurunuz. 12p

- İnsanların düşüncelerinin geniş kitlelere ulaştırılması, okuma yazma oranlarının artması ve bilgi ve kültür birikimi ile paylaşımın hız kazanarak toplumların gelişmesini sağlayan, YAZININ..... İcadıdır.
- İpek ve Baharat yollarının önemini yitirmesine neden olan olayCOĞRAFİ KEŞİFLER.....dir
- ...MATBAANIN.....geliştirilmesiyle kitaplar çoğaltılmaya başlamıştır
- Kanuni Sultan Süleyman döneminde Osmanlı hizmetine giren, önemli deniz zaferleri kazanarak Akdeniz'de uzun yıllar kalıcı bir hakimiyet kuran Türk denizcisi BARBAROS HAYRETTİN . Paşa'dır.

3. Aşağıda LALE DEVRİNDE gerçekleşen bazı olaylar verilmiştir. Bu olaylar ile uygun cümleyi ok çıkararak eşleştiriniz. 12p



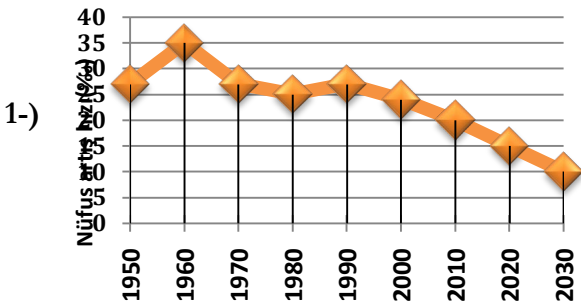
4. Toprak sistemiyle ilgili verilen bilgilerin verilen hangi ülkede olduğunu eşleştiriniz. (AVRUPA-SELÇUKLU-OSMANLI) (9p)



5. Aşağıda Osmanlı Devletinde 19. yüzyılda yapılan yenilik hareketlerinden bazılarını yer verilmiştir. Yapılan yenilik hareketinin SOSYAL, SİYASAL, EKONOMİK, ASKERİ mi olduğunu dairelerin içine yazınız. 12 p

<p>EKONOMİK</p> <p>1866'da İzmir-Aydın arasında demiryolu döşenmiştir.</p>	<p>SOSYAL ...</p> <p>1868'de Galatasaray Lisesi açılmıştır.</p>	<p>... SİYASAL</p> <p>1846'da Jandarma Teşkilatı kurulmuştur.</p>	<p>... ASKERİ</p> <p>I. Mahmut tarafından yurtdışından top dökümü için ustalar getirilmiştir.</p>
-----------------------------------------------------------------------------------	------------------------------------------------------------------------	--------------------------------------------------------------------------	----------------------------------------------------------------------------------------------------------

6. Bölüm: Test Soruları – 5'er puan



Ülkemizin 1950-2030 nüfus artış hızı ve beklenen nüfus artışı binde(%) olarak yukarıdaki grafikte verilmiştir.

Bu verilere göre aşağıdakilerden hangisi söylenemez?

- A) 1990'dan sonra nüfus artış hızı düzenli olarak düşmektedir.
- B) 1990 öncesinde nüfus artış hızında dalgalanmalar yaşanmıştır.
- C) Ülkemizde en çok 1950-1960 yılları arasında nüfus artış hızı yüksektir.
- D) İç göç nedeniyle nüfus artış oranı düşmüştür.

2) Ahmet: Babamdan kalan tarlaları dört kardeş paylaştık. Ancak tarlalar bizim geçimimizi sağlayacak kadar gelir getirmediği için kardeşlerimle birlikte tarlamızı sattık ve şehre göç ettik.

Ahmet'in anlatımına göre köyden kente göç etmelerinin sebebi aşağıdakilerden hangisidir?

- A) Tarım alanlarının miras yoluyla bölünmesi
- B) Doğal afetlerin görülmesi
- C) Kırsal kesimdeki hızlı nüfus artışı
- D) Kırsal kesimdeki alt yapı hizmetlerinin yetersizliği

3) Ailesi İstanbul'da olan Serhan İzmir'de üniversitede okumaktadır. Okullar kapanmadan bir hafta önce annesini telefonla arayarak arkadaşlarıyla Marmaris'e tatile gitmek için izin istemiştir. Şimdi arkadaşlarıyla tatilde olan Serhan haftaya İstanbul'a dönecektir.

Yukarıda paragrafta Serhan'ın hangi hak ve özgürlüklerinden bahsedilmemiştir?

- A) Eğitim ve öğrenim hakkı
- B) Seyahat özgürlüğü
- C) Haberleşme özgürlüğü
- D) Bilim özgürlüğü

4) Bir ülkede, nüfusun dağılışı; iklim özellikleri, yerşekilleri, yükselti değerleri, tarımsal üretim, ulaşım, sanayi gibi pek çok doğal ve beşeri etkene bağlıdır.

Buna göre ülkemizde nüfusun dağılışı ile ilgili olarak aşağıda verilen bilgilerden hangisi yanlıştır?

- A) Nüfus miktarı en fazla olan bölge Marmara'dır.
- B) Nüfus daha çok kıyı bölgelerde toplanmıştır.
- C) Nüfusun dağılışında iklimin etkisi büyüktür.
- D) Doğu Anadolu'da nüfus yoğunluğu fazladır.

5)

Hesap bilimiyle ilgili bir kitap yozan Ali Kuşçu, daha önce benzeri olmayan bu kitabı dönemin Osmanlı padişahı Fatih Sultan Mehmet'e sunuyor.



Bu bilgiler, aşağıdakilerden hangisine kanıt olarak gösterilebilir?

- A) Fatih Sultan Mehmet'in bilime önem verdiğiğine
- B) Bilim adamlarının yönetimde söz sahibi olduğuna
- C) Halifeliğin Osmanlı Devleti'ne geçtiğine
- D) Türklerin bilim alanında Avrupalılardan etkilendiğine